


ДЪРЖАВЕН ЗРЕЛОСТЕН ИЗПИТ ПО  
ГЕОГРАФИЯ И ИКОНОМИКА

5 септември 2008 г. – Вариант 2

**УВАЖАЕМИ ЗРЕЛОСТНИЦИ,**


Тестът съдържа **30 задачи** по география и икономика, две практически задачи и две задачи за написване на писмени разработки. 30-те задачи са **два вида**:


- задачи с избираем отговор;
- задачи със свободен отговор.

**Първите 28 задачи (от 1. до 28. включително)** в теста са от затворен тип с четири възможни отговора, обозначени с главни букви от А до Г, от които само един е верен. Отговорите на тези задачи отбелязвайте със син цвят на химикалката в **листа за отговори**, а не върху тестовата книжка. За да отбележите верния отговор, зачертайте със знака  кръгчето с буквата на съответния отговор. Например:

(A) ~~(B)~~ (B) (G)

Ако след това прецените, че първоначалният отговор не е верен и искате да го поправите, запълнете кръгчето с грешния отговор и зачертайте буквата на друг отговор, който приемате за верен. Например:

(A)  ~~(B)~~ (G)

**За всяка задача трябва да е отбелязан не повече от един действителен отговор. Като действителен отговор на съответната задача се приема само този, чиято буква е зачертана със знака  .**

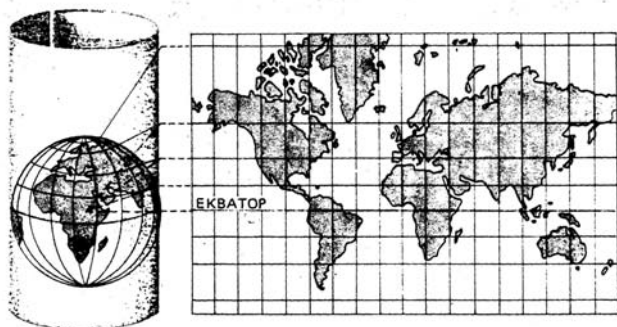
Отговорите на **задачите със свободен отговор (29. и 32.)** попълвайте в предоставения свитък за свободните отговори.

**Писмените разработки** върху география на света и география на България напишете в **свитъка за свободните отговори** на предвиденото за това място.

**ПОЖЕЛАВАМЕ ВИ УСПЕШНА РАБОТА!**

Отговорите на задачите от 1. до 28. вкл. отбелязвайте в листа за отговори!

**1. При разработването на географска карта за кои райони на планетата Земя се използва цилиндричната проекция, за да няма деформации на изобразените територии?**



- А) полюсите
- Б) екваториалните части
- В) тропичните окръжности
- Г) полярните окръжности

**2. Коя е причината за движението на въздушните маси?**

- А) движението на Земята около нейната ос
- Б) различията в подстилящата земна повърхност
- В) различията в атмосферното налягане
- Г) съставът на атмосферата

**3. Най-голям дял от населението в силно развитите страни е заето в:**

- А) обслужващата сфера
- Б) обработващите отрасли
- В) добивните отрасли
- Г) аграрното стопанство

**4. Коя столица има основно административно-управленски функции?**

- А) Вашингтон
- Б) Лондон
- В) Париж
- Г) Москва

**5. Целта на международната организация ЮНЕСКО е решаване въпросите на:**

- А) здравеопазването
- Б) мира и сигурността в света
- В) образованието, науката и културата
- Г) изхранването на населението

**6. Къде се намира седалището на Европейския парламент?**

- А) Париж
- Б) Брюксел
- В) Страсбург
- Г) Лондон

**7. Коя група страни включва големи производители на цветни метали?**

- А) Япония, Индия
- Б) САЩ, Мексико
- В) Китай, Германия
- Г) Бразилия, Аржентина

**8. Групата на кои страни е с най-голяма гъстота на железопътната мрежа?**

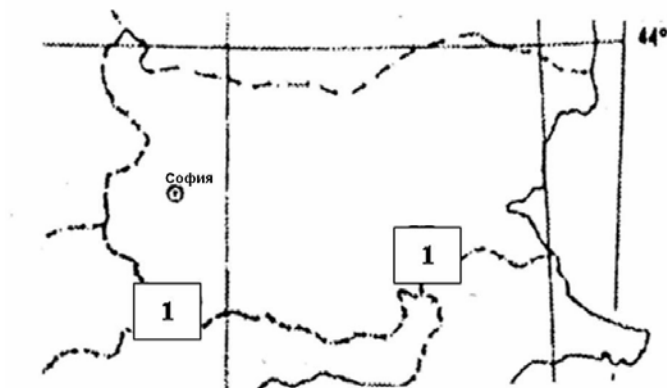
- А) САЩ, Русия
- Б) Полша, Чехия
- В) Белгия, Германия
- Г) Бразилия, Мексико

**9. Коя от следните особености НЕ е характерна за стопанството на САЩ?**

- А) постоянно обновяване на технологиите
- Б) силно развито пазарно стопанство
- В) структурно определящите отрасли са разположени по Западното крайбрежие
- Г) аграрното стопанство има животновъдно-растениевъдна структура

**10. Кои ГКПП по южната граница на България са отбелязани с цифров код 1 на картосхемата?**

- А) Капитан Андреево и Кулата
- Б) Видин и Русе
- В) Варна и Бургас
- Г) Гюешево и Калотина



**11. Най-силно влиянието на Исландските циклони върху климата на България е изразено през:**

- А) зимата и пролетта
- Б) пролетта и лятото
- В) лятото и есента
- Г) есента и зимата

**12. Кой басейн на лигнитни въглища е с най-голямо стопанско значение?**

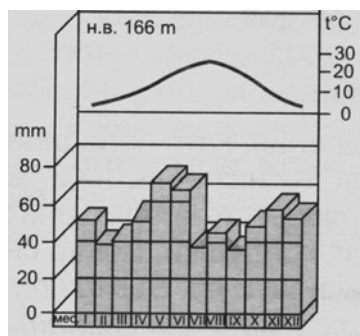
- А) Ломски
- Б) Софийски
- В) Маришки
- Г) Елховски

**13. В коя част на България падат най-малко количество валежи?**

- А) Източна Дунавска равнина
- Б) Южно черноморско крайбрежие
- В) Западна Дунавска равнина
- Г) Задбалкански котловини

14. За коя климатична област в България се отнася климатограмата?

- А) умерено-континентална
- Б) преходно-континентална
- В) континентално-средиземноморска
- Г) черноморска



15. В коя група езерата са с ледников произход?

- А) Рабишко, Паничище
- Б) Сврадливо, Мандренско
- В) Шабленско, Поморийско
- Г) Бъбрека, Попово

16. За кой почвен тип в България се отнася характеристиката?

„Азонални почви, образувани по речните тераси в условията на постоянно овлажнение.”

- А) хумусно-карбонатни
- Б) алувиално-ливадни
- В) планинско-ливадни
- Г) кафяви горски

17. Особеност на растителността в България е:

- А) ограничено видово разнообразие
- Б) принадлежност към една растителна група
- В) наличие на много ендемити и реликти
- Г) преобладава иглолистна растителност

18. Западните и Източните Родопи си приличат по:

- А) надморската височина
- Б) уникалните скални образувания
- В) режима на реките
- Г) почвената покривка

19. Доказателство за нарушената възрастова структура на населението в България е:

- А) високият относителен дял на подтрудолюбното население
- Б) ниският относителен дял на подтрудолюбното население
- В) ниският относителен дял на надтрудолюбното население
- Г) високият относителен дял на трудолюбното население

20. С какво се характеризира съвременната демографска ситуация в България?

- А) демографски взрив
- Б) втори тип възпроизводство
- В) демографска криза
- Г) намаление на емиграциите

- 21. Един от природните фактори, оказващ влияние върху формирането и развитието на селищата са полезните изкопаеми. Кое от посочените селища дължи развитието си основно на този фактор?**
- А) Дупница
  - Б) Чипровци
  - В) Смолян
  - Г) Котел
- 22. Къде в България се отглежда ориз?**
- А) в Пазарджишко-Пловдивското поле
  - Б) в Старозагорското поле
  - В) в Бургаската низина
  - Г) в Сливенската котловина
- 23. Предприятия на цветната металургия има в следните два града в България:**
- А) Пирдоп и Пловдив
  - Б) София и Перник
  - В) Бургас и Варна
  - Г) Шумен и Добрич
- 24. В коя група центровете на земеделско машиностроене са разположени в Горнотракийската низина?**
- А) Полски Тръмбеш, Ямбол
  - Б) Ямбол, Нова Загора
  - В) Нова Загора, Карлово
  - Г) Русе, Карнобат
- 25. Градовете Мездра, Лом, Плевен имат обща специализация в производството на:**
- А) консерви
  - Б) пиво
  - В) захар
  - Г) месни изделия
- 26. С влиянието на кой фактор се обяснява установяването на мелничарската промишленост в София?**
- А) природногеографски
  - Б) суровинен
  - В) административен
  - Г) потребителски
- 27. Коя автомагистрала свързва София с Пловдив?**
- А) „Хемус“
  - Б) „Марица“
  - В) „Тракия“
  - Г) „Черно море“
- 28. Кое от посочените селища е център на балнеоложки туризъм в България?**
- А) Карлово
  - Б) Хисаря
  - В) Сопот
  - Г) Казанлък

**29. В свитъка за свободните отговори напишете наименованието на географския регион в света, за който се отнася характеристиката?**

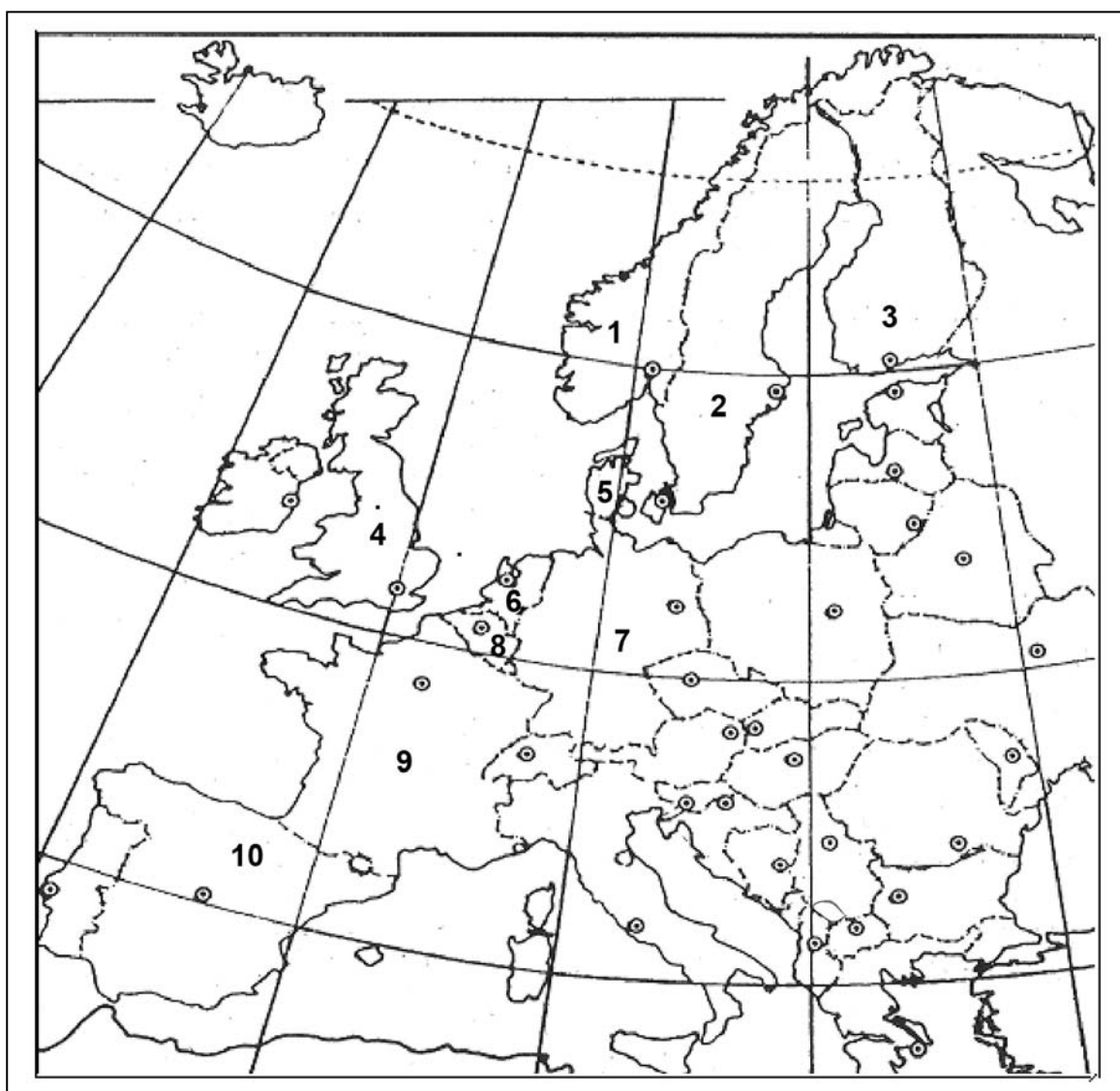
„Има излаз на три океана. Характеризира се с голям природноресурсен потенциал и висока урбанизация на населението. Развиват се високотехнологични стопански отрасли, което го определя като един от центровете на световното стопанство.”

**30. В свитъка за свободните отговори напишете наименованието на географския регион в България, за който се отнасят следните особености?**

„Най-малък е по площ и с най-нисък естествен прираст на населението. Водещ отрасъл на вторичния сектор е енергетиката. Специализира се в зърнопроизводство. В него се намират две от най-големите дунавски пристанища в страната .”

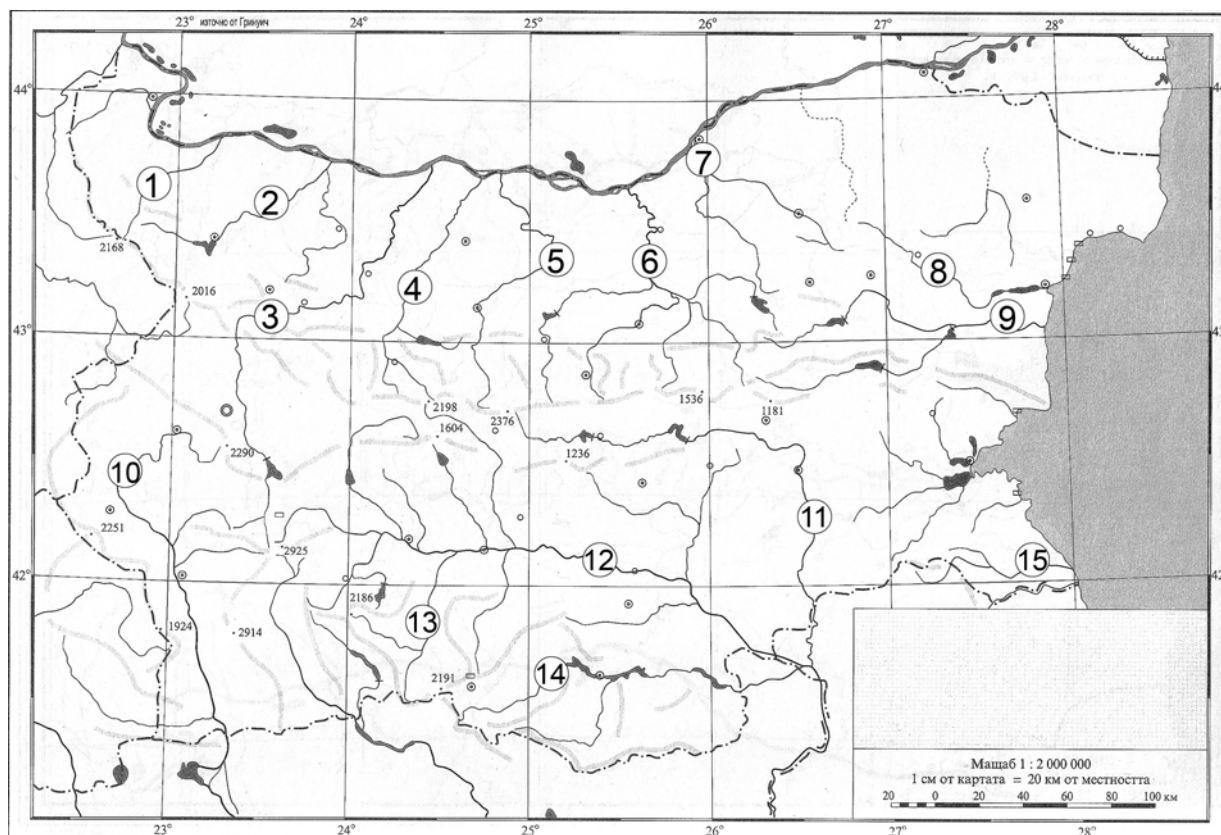
**31. Практическа задача по география на света**

На картосхемата с номера са означени страни от Западноевропейския регион. В свитъка за свободните отговори срещу номера от 1 до 10 вкл. напишете наименованието на съответната държава.



## 32. Практическа задача по география на България

В свитъка за свободните отговори срещу номера от 1 до 15 вкл. напишете наименованията на реките в България, означени на контурната карта със съответните числа.



Писмените разработки напишете в свитъка за свободните отговори на предвиденото за това място!

### 1. География на света

#### *География на растениевъдството в света*

А) Същност, значение, особености и фактори за развитие

Б) Отраслова и териториална структура

- зърнопроизводство; отглеждане на технически култури; отглеждане на трайни насаждения; зеленчукопроизводство

### 2. География на България

#### *Обща географска характеристика на Българското черноморско крайбрежие*

А) Географско положение, граници и морфохидрографски особености

Б) Природногеографска характеристика

- релеф; климат; води; почви; растителност; животински свят

В) Стопанска усвоеност